



Aufnahmeprüfung 2019 für die Berufsmaturitätsschulen des Kantons Zürich

Mathematik

Serie: B1

Dauer: 90 Minuten

- Hilfsmittel:
- Zeichenutensilien, Taschenrechner, keine Formelsammlung
 - Taschenrechner, welche leistungsfähiger sind als übliche Sekundarschulrechner, dürfen nicht verwendet werden. Dies gilt insbesondere für Rechner mit einem CAS und grafikfähige Rechner.

- Vorschriften:
- Lösen Sie die Aufgabe im dafür vorgesehenen Feld.
 - Bei Platzmangel benutzen Sie das Zusatzblatt ganz hinten.
 - Der Lösungsweg muss vollständig ersichtlich sein.
 - Ungültiges ist zu streichen. Bleistift ist nur für Zeichnungen zulässig.
 - Unterstreichen Sie die Ergebnisse doppelt.

- Bewertung:
- Die Prüfung umfasst 14 Aufgaben mit total 40 Punkten.
 - Der Lösungsweg wird mitbewertet.
 - Resultate ohne erkennbaren Lösungsweg werden nicht bewertet.

Name: _____

Vorname: _____

Strasse und Nummer: _____

Postleitzahl und Wohnort: _____

Nummer (ohne KV-Schulen): _____

| Aufgabe | 1 | 2 | 3 | 4 | 5 | 6 | 7 | 8 | 9 | 10 | 11 | 12 | 13 | 14 | Total |
|---------------------|---|---|---|---|---|---|---|---|---|----|----|----|----|----|-------|
| Maximale Punktzahl | 2 | 2 | 4 | 2 | 2 | 3 | 4 | 3 | 4 | 3 | 3 | 3 | 2 | 3 | 40 |
| Erreichte Punktzahl | | | | | | | | | | | | | | | |

Erreichte Punktzahl **Punkte**

Prüfungsnote (auf halbe Noten gerundet)

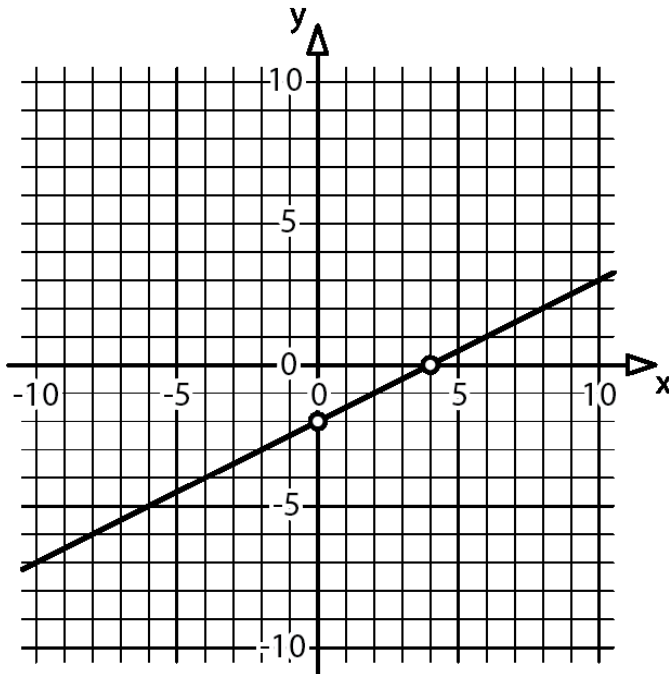
Die Expertin / der Experte:

.....

Aufgabe 9

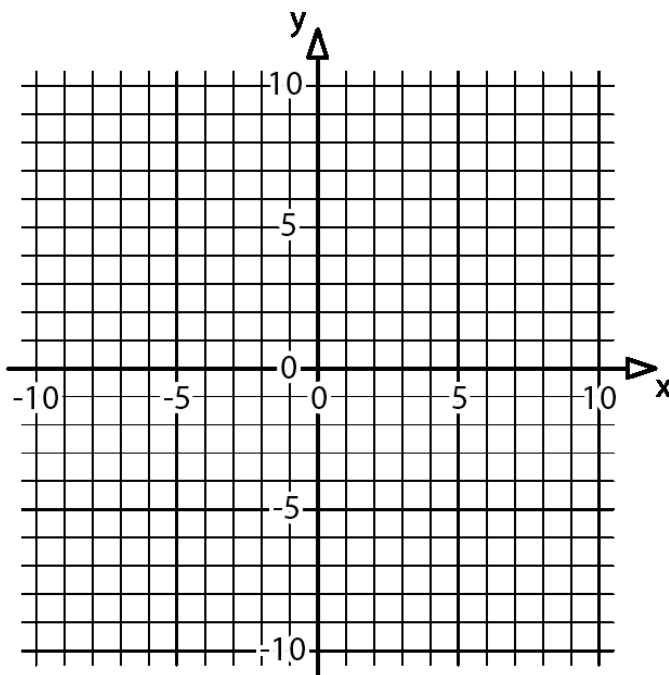
4 P.

a) Bestimmen Sie die Funktionsgleichung der abgebildeten Geraden.




Ihre Antwort: $y =$ _____


b) Zeichnen Sie die Gerade mit der Funktionsgleichung $y = -0.6x + 3$.



- c) Bestimmen Sie die Funktionsgleichung derjenigen Geraden, welche parallel zur Geraden mit der Funktionsgleichung $y = -5x - 3$ verläuft und die y-Achse bei $y = 5$ schneidet.




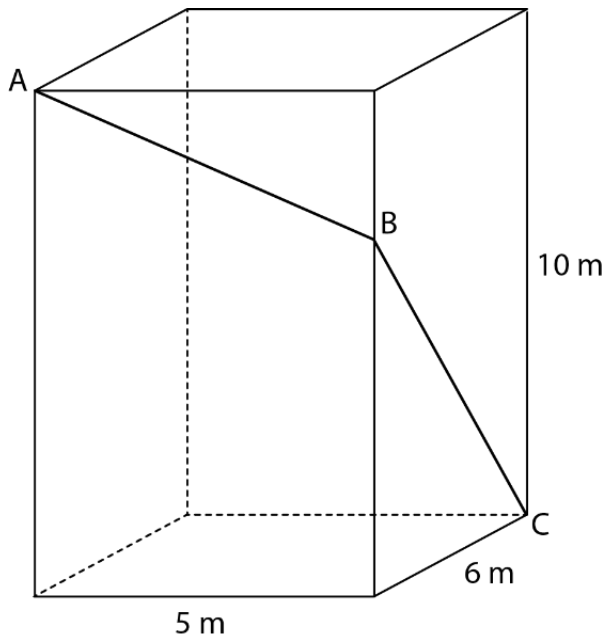
- d) Berechnen Sie die x-Koordinate des Schnittpunktes der beiden Geraden mit den Funktionsgleichungen $y = -4x + 60$ und $y = 38x - 150$.




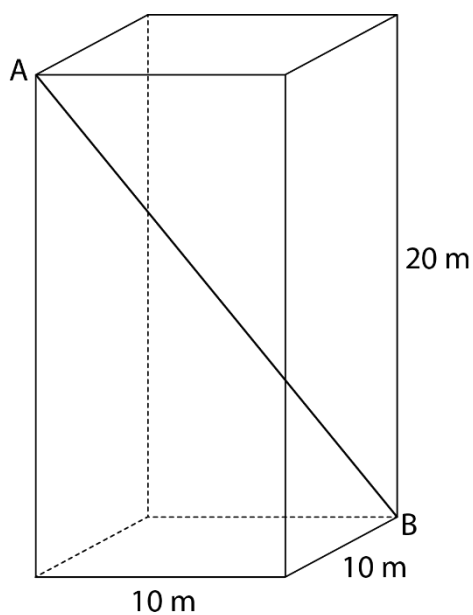
Aufgabe 10

3 P.

- a) Im folgenden Quader hat die Strecke BA eine Steigung von 50 %.
Berechnen Sie die Steigung der Strecke CB in Prozent.



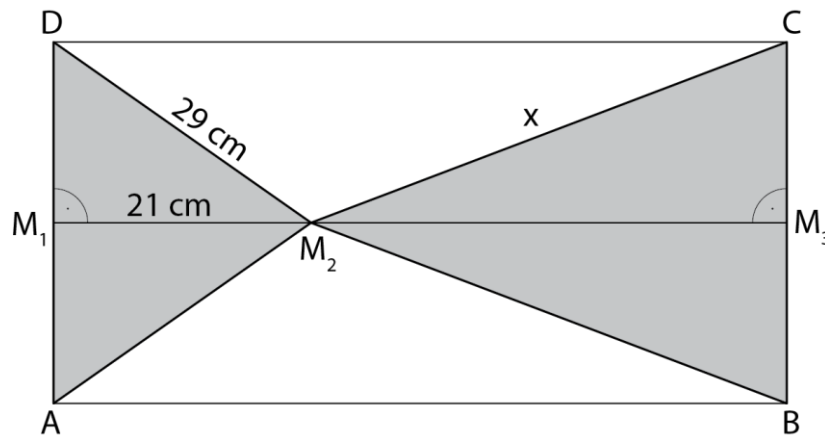
- b) Gegeben ist der folgende Quader.
Berechnen Sie die Steigung der Strecke BA in Prozent. Genauigkeit: 1 Dezimale.



Aufgabe 11

3 P.

Gegeben ist folgende Figur:



Der Flächeninhalt der grau markierten Figur beträgt $2'400 \text{ cm}^2$. Berechnen Sie x .

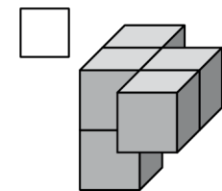
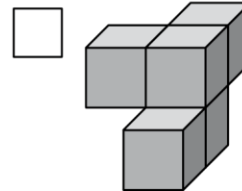
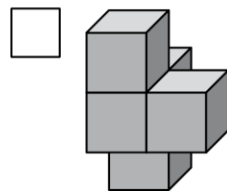
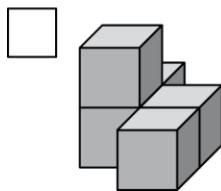
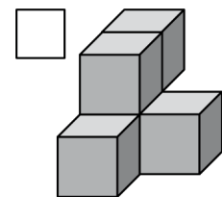
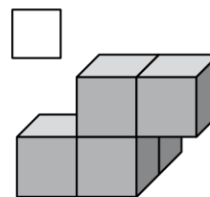
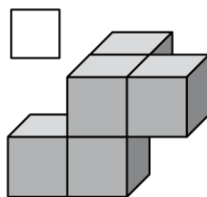
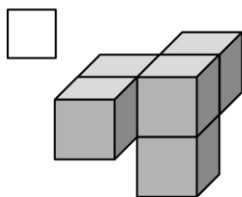
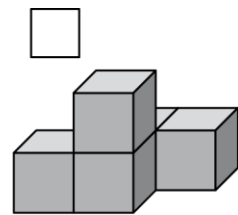
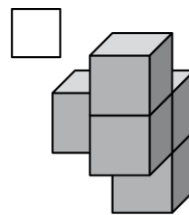
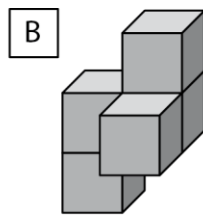
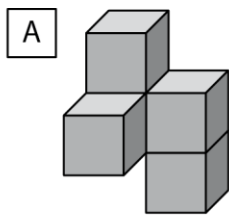


Aufgabe 14

3 P.

a) Die beiden Würfelkörper A und B sind unten in verschiedenen Lagen abgebildet.

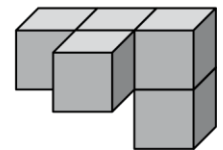
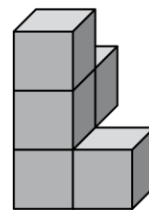
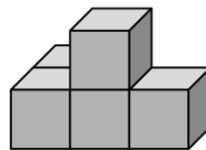
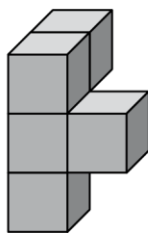
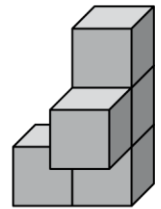
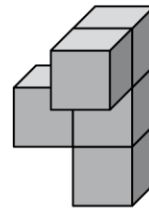
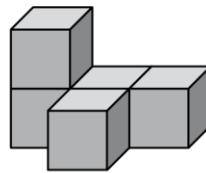
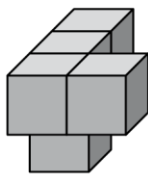
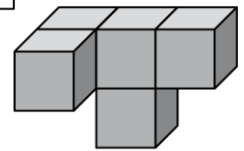
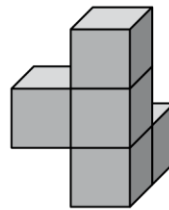
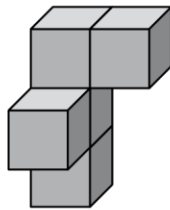
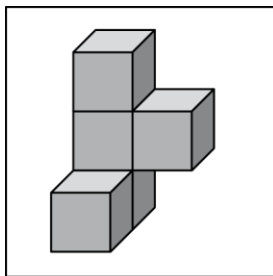
Bestimmen Sie, welche 5 Abbildungen vom Würfelkörper A und welche 5 Abbildungen vom Würfelkörper B sind.




b) Der oben links eingerahmte Würfelkörper wird ...

erst nach **rechts gekippt**,
dann im **Gegenuhrzeigersinn um 90° gedreht**,
anschliessend nach **hinten gekippt**,
und am Schluss nach **links gekippt**.


Kreuzen Sie die Abbildung an, die den Würfelkörper in seiner neuen Lage zeigt.




Zusatzblatt 1



Zusatzblatt 2



Zusatzblatt 3



Zusatzblatt 4

