



Aufnahmeprüfung 2020 für die Berufsmaturitätsschulen des Kantons Zürich

Mathematik

Serie: A1

Dauer: 90 Minuten

- Hilfsmittel:
- Zeichenutensilien, Taschenrechner, keine Formelsammlung
 - Taschenrechner, welche leistungsfähiger sind als übliche Sekundarschulrechner, dürfen nicht verwendet werden. Dies gilt insbesondere für Rechner mit einem CAS und grafikfähige Rechner.

- Vorschriften:
- Lösen Sie die Aufgabe im dafür vorgesehenen Feld.
 - Bei Platzmangel benutzen Sie das Zusatzblatt ganz hinten.
 - Der Lösungsweg muss vollständig ersichtlich sein.
 - Ungültiges ist zu streichen. Bleistift ist nur für Zeichnungen zulässig.
 - Unterstreichen Sie die Ergebnisse doppelt.

- Bewertung:
- Die Prüfung umfasst 14 Aufgaben mit total 40 Punkten.
 - Der Lösungsweg wird mitbewertet.
 - Resultate ohne erkennbaren Lösungsweg werden nicht bewertet.

Name: _____

Vorname: _____

Strasse und Nummer: _____

Postleitzahl und Wohnort: _____

Nummer (ohne KV-Schulen): _____

Aufgabe	1	2	3	4	5	6	7	8	9	10	11	12	13	14	Total
Maximale Punktzahl	3	4	6	2	2	2	2	3	4	2	3	2	3	2	40
Erreichte Punktzahl															

Erreichte Punktzahl **Punkte**

Prüfungsnote (auf halbe Noten gerundet)

Die Expertin / der Experte:

.....

Aufgabe 5

2 P.

Je zwei Grössen bilden ein Paar mit gleichem Wert. Eine Grösse bleibt jedoch allein.
Bestimmen Sie die beiden Paare und die Grösse, die allein bleibt.

Der Lösungsweg wird bei dieser Aufgabe nicht bewertet.

- a)**
- A 0.43 m²
 - B 4.3 dm²
 - C 43'000 cm²
 - D 4'300'000 mm²
 - E 4'300 cm²

Ihre Lösung:

Paar 1

Paar 2

allein

- b)**
- A 5'400 cm³
 - B 0.54 l (Liter)
 - C 5'400 ml
 - D 540 dl
 - E 540'000 mm³

Ihre Lösung:


Paar 1

Paar 2


allein

b) Der Säntis ist 2'501.9 m hoch.

- 1)** Das Matterhorn ist 79 % höher als der Säntis.
Berechnen Sie die Höhe des Matterhorns. Genauigkeit: 1 m.



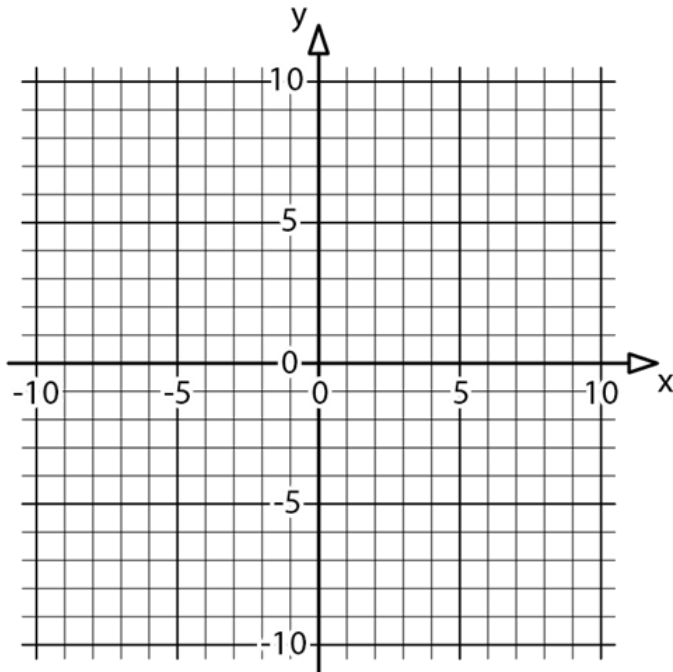
- 2)** Der Irchel ist 694 m hoch.
Berechnen Sie die Höhe des Irchels in % der Höhe des Säntis. Genauigkeit: 1 %.



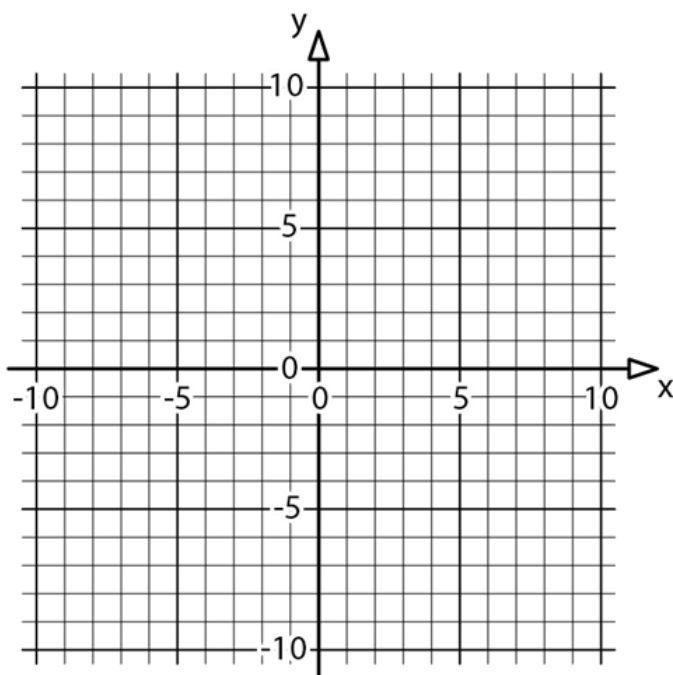
Aufgabe 9

4 P.

a) Zeichnen Sie die Gerade mit der Funktionsgleichung $y = 0.4x + 2$ ins Koordinatensystem ein.




b) Eine Gerade verläuft durch die Punkte $A(3/5)$ und $B(-6/-4)$.
Bestimmen Sie die Funktionsgleichung der Geraden.
Nutzen Sie als Hilfe das abgebildete Koordinatensystem.



Ihre Antwort: $y =$ _____


- c) Der Punkt $P(x/18)$ liegt auf der Geraden mit der Funktionsgleichung $y = \frac{x}{5} + 11$.

Berechnen Sie x .



- d) Gegeben ist die Gerade mit der Funktionsgleichung $y = 2x - 7$.

Berechnen Sie die x -Koordinate des Schnittpunktes der Geraden mit der x -Achse.



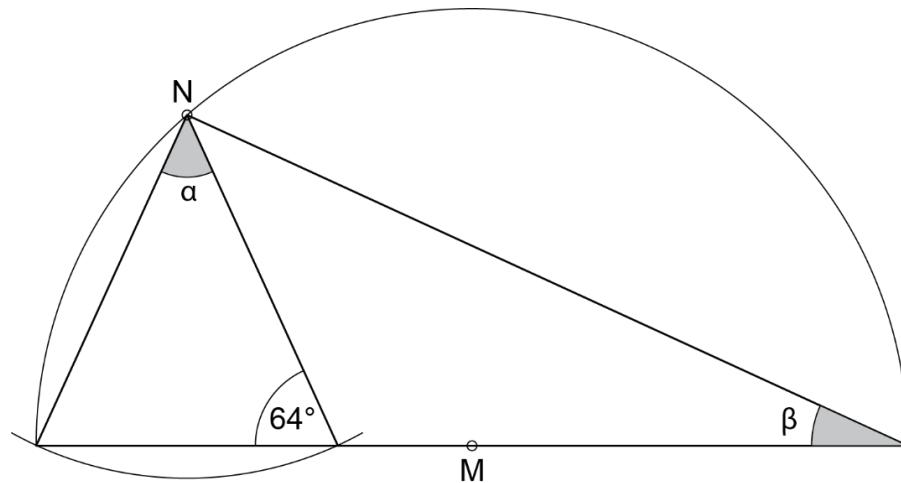
Aufgabe 12

2 P.

In der folgenden Figur sind M und N Kreismittelpunkte. Die Figur ist nicht massstabsgetreu.


Berechnen Sie die Winkel α und β .

Der Lösungsweg wird bei dieser Aufgabe nicht bewertet.



Ihre Resultate: $\alpha =$ _____

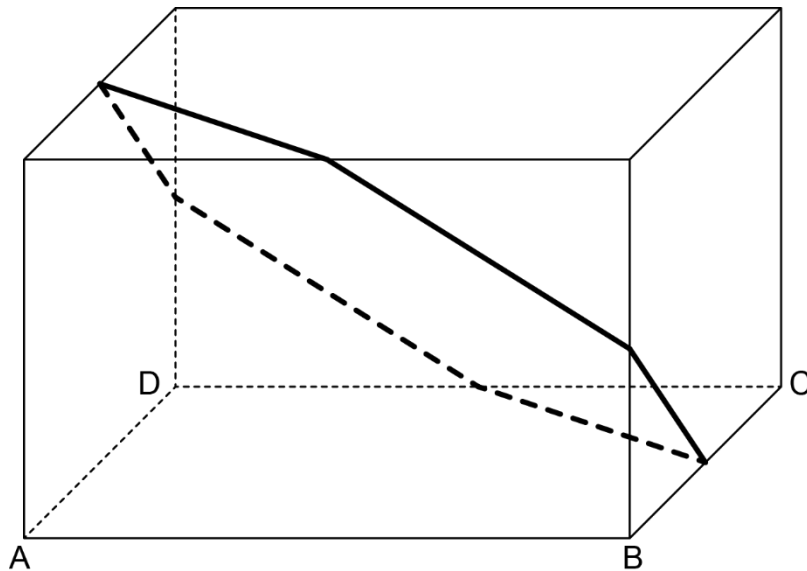
$\beta =$ _____



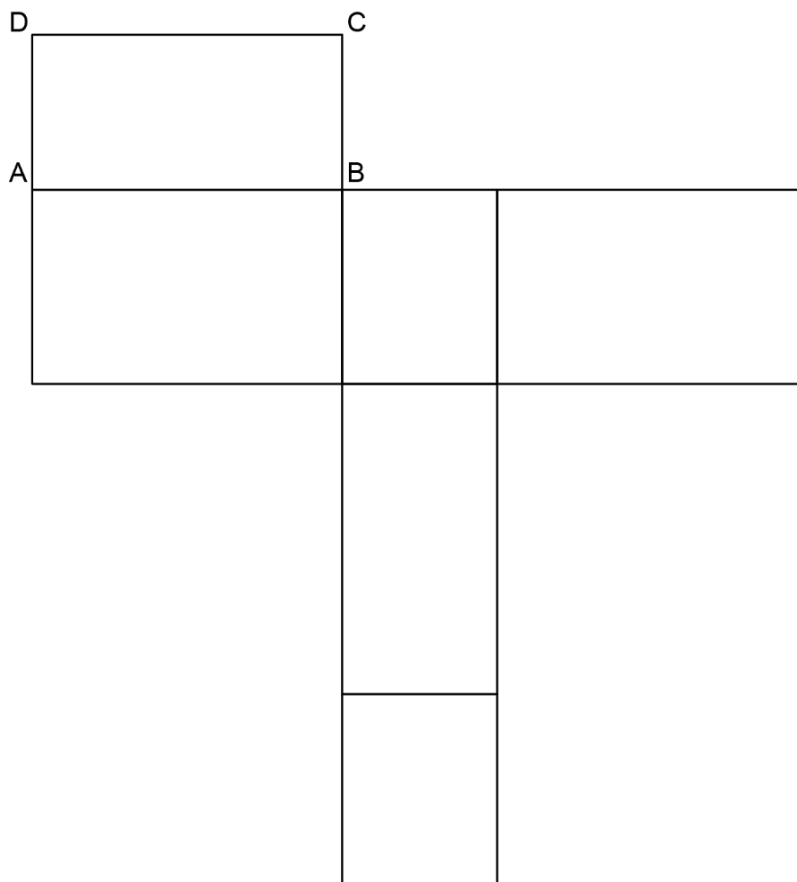
Aufgabe 14

2 P.


Auf dem abgebildeten Quader ist ein Streckenzug eingezeichnet.
Die Streckenenden sind Kantenmittelpunkte des Quaders.




Zeichnen Sie den Streckenzug im unten verkleinert abgebildeten Netz des Quaders ein.



Zusatzblatt 1



Zusatzblatt 2



Zusatzblatt 3

